

Putování za poznáním

Po stopách Karla IV.

Přátelé a kamarádi, rádi bychom vám představili místa spjatá s Karlem IV. Protože se tento král zapsal do našich dějin a vybudoval naší krásné zemi mnoho zajímavých míst, zavedeme vás výhradně na ně. Zavedeme vás i na místo, kde Karel IV. pobýval se svou chotí Blankou z Volios, když se vrátil do Prahy a Pražský hrad nebyl obyvatelný. Těšit se máte rozhodně na co, a my pevně věříme, že si toulání po stopách Karla IV. užijete.

Karel IV. se jako Václav narodil 14. května 1316 v Praze, kde 29. listopadu 1378 také zemřel. Karel IV. byl jedenáctý český král vládnoucí jako Karel I. od srpna 1346 až do své smrti v listopadu 1378. Karel IV. byl král římsko-německý, italský (lombardský), burgundský (arelatský), moravský markrabě a lucemburský hrabě. Pocházel po otci z dynastie Lucemburků a po matce byl potomkem rodu Přemyslovců. Byl to první český král, který se stal také císařem Svaté říše římské a byl posledním korunovaným burgundským králem. Stal se tak osobním vládcem všech království Svaté říše římské.

Karel IV. patřil mezi nejvýznamnější panovníky vrcholného středověku. Byl neobyčejně vzdělaný a inteligentní, plyně hovořil pěti jazyky (francouzština, němčina, čeština, latina a italština). Svou moc využil ke konsolidaci českého státu, který byl od jeho doby znám jako Koruna česká. Již jako císař nechal vytvořit Zlatou bulu, nejvýznamnější říšský ústavní zákon, který platil až do zániku Svaté říše římské roku 1806.



Přejeme vám příjemné toulání.


Karlštejn

Karlštejn najdete na souřadnicích: 49.9391167N, 14.1882903E

Datum návštěvy: _____

Co se Ti nejvíce líbilo: _____

Jak moc se Ti na místě líbilo



Co si chceš pamatovat: _____

S kým jsi na místo vyrazil: _____

Místo pro obrázek

Radyně

Hrad Radyně najdete na souřadnicích: 49.6810306N, 13.4651931E

Datum návštěvy: _____

Co se Ti nejvíce líbilo: _____

Jak moc se Ti na místě líbilo



Co si chceš pamatovat: _____

S kým jsi na místo vyrazil: _____

Místo pro obrázek


Kašperk

Hrad Kašperk najdete na souřadnicích: 49.1660328N, 13.5646764E

Datum návštěvy: _____

Co se Ti nejvíce líbilo: _____

Jak moc se Ti na místě líbilo



Co si chceš pamatovat: _____

S kým jsi na místo vyrazil: _____

Místo pro obrázek


Hrádek u Purkrarce

Zříceninu hrádku najdete na souřadnicích: 49.1106997N, 14.4604697E

Datum návštěvy: _____

Co se Ti nejvíce líbilo: _____

Jak moc se Ti na místě líbilo



Co si chceš pamatovat: _____

S kým jsi na místo vyrazil: _____

Místo pro obrázek


Karlovy Vary

Karlovy Vary najdete na souřadnicích: 50.2301047N, 12.8665889E

Datum návštěvy: _____

Co se Ti nejvíce líbilo: _____

Jak moc se Ti na místě líbilo



Co si chceš pamatovat: _____

S kým jsi na místo vyrazil: _____

Místo pro obrázek

Máchovo jezero

Máchovo jezero najdete na souřadnicích: 50.5834892N, 14.6498369E

Datum návštěvy: _____

Co se Ti nejvíce líbilo: _____

Jak moc se Ti na místě líbilo



Co si chceš pamatovat: _____

S kým jsi na místo vyrazil: _____

Místo pro obrázek


Katedrála sv. Víta

Katedrálu najdete na souřadnicích: 50.0908936N, 14.4006036E

Datum návštěvy: _____

Co se Ti nejvíce líbilo: _____

Jak moc se Ti na místě líbilo



Co si chceš pamatovat: _____

S kým jsi na místo vyrazil: _____

Místo pro obrázek


Kostel Panny Marie Sněžné

Kostel najdete na souřadnicích: 50.0830128N, 14.4236114E

Datum návštěvy: _____

Co se Ti nejvíce líbilo: _____

Jak moc se Ti na místě líbilo



Co si chceš pamatovat: _____

S kým jsi na místo vyrazil: _____

Místo pro obrázek


Nové Město pražské

Nové Město pražské najdete na souřadnicích: **50.0762900N, 14.4167286E**

Datum návštěvy: _____

Co se Ti nejvíce líbilo: _____

Jak moc se Ti na místě líbilo



Co si chceš pamatovat: _____

S kým jsi na místo vyrazil: _____

Místo pro obrázek


Karolinum - Karlova univerzita

Karolinum najdete na souřadnicích: 50.0862192N, 14.4231789E

Datum návštěvy: _____

Co se Ti nejvíce líbilo: _____

Jak moc se Ti na místě líbilo



Co si chceš pamatovat: _____

S kým jsi na místo vyrazil: _____

Místo pro obrázek

Karlův most

Karlův most najdete na souřadnicích: **50.0865031N, 14.4112594E**

Datum návštěvy: _____

Co se Ti nejvíce líbilo: _____

Jak moc se Ti na místě líbilo



Co si chceš pamatovat: _____

S kým jsi na místo vyrazil: _____

Místo pro obrázek


Hladová zed'

Hladovou zed' najdete na souřadnicích: 50.0806803N, 14.4007817E

Datum návštěvy: _____

Co se Ti nejvíce líbilo: _____

Jak moc se Ti na místě líbilo



Co si chceš pamatovat: _____

S kým jsi na místo vyrazil: _____

Místo pro obrázek

Dům U Kamenného zvonu

Dům U Kamenného zvonu najdete na souřadnicích: 50.0878472N, 14.4219778E

Datum návštěvy: _____

Co se Ti nejvíce líbilo: _____

Jak moc se Ti na místě líbilo



Co si chceš pamatovat: _____

S kým jsi na místo vyrazil: _____

Místo pro obrázek